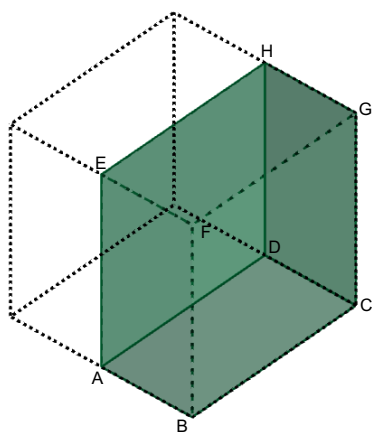


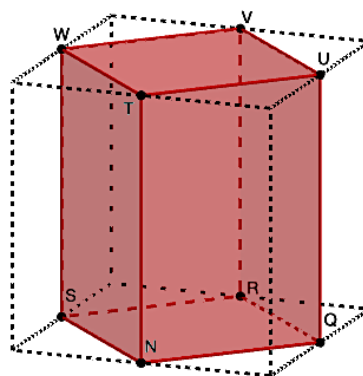
SUPSI

Immagini

Attività 1: Dal cubo al prisma



Prisma di Barbara

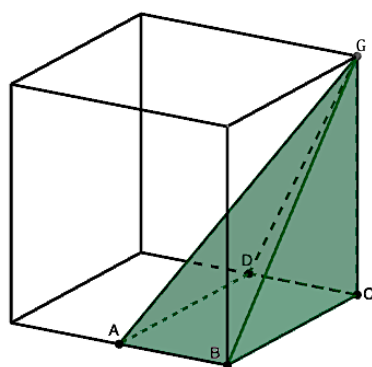


Prisma di Claudio

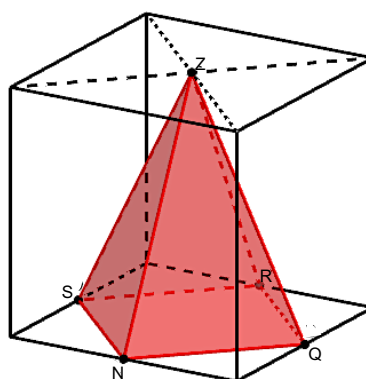
I punti A, D, H, E, N, Q, R, S, T, U, V, W sono punti medi dei segmenti a cui appartengono.

La lunghezza dello spigolo del cubo misura: $s = 10\text{ cm}$

Attività 2: Dal prisma alla piramide



Piramide di Barbara



Piramide di Claudio